

SOCIALINIAI MOKSLAI

1. Pirmieji dabartinės Lietuvos teritorijos gyventojai buvo:
 - A amatininkai;
 - B pirkliai;
 - C šiaurės elnių medžiotojai;
 - D žemdirbiai.

2. Pirmą kartą istoriniuose šaltiniuose Vilnius paminėtas valdant kunigaikščiui:
 - A Gediminui;
 - B Jogailai;
 - C Mindaugui;
 - D Žygimantui Augustui.

3. Liublino unija tarp LDK ir Lenkijos karalystės sudaryta Lietuvą valdant:
 - A Gediminui;
 - B Jogailai;
 - C Mindaugui;
 - D Žygimantui Augustui.

4. Kuris teiginys apie krikščionių religiją yra teisingas?
 - A Jėzus Kristus buvo vyriausias romėnų dievas.
 - B Krikščionys garbino Senovės Romos imperatorių Neroną.
 - C Pirmieji Kristaus mokiniai buvo vadinami apaštalais.
 - D Pagrindiniai krikščionybės skleidėjai buvo Romos žyniai.

5. Demokratijos ištakas siejame su:
 - A Mesopotamija.
 - B Senovės Egiptu.
 - C Senovės Graikija.
 - D Senovės Roma.

6. Islamo pradininku laikomas:
 - A Buda;
 - B Jėzus Kristus;
 - C Konfucijus;
 - D Mahometas.

7. Kuris iš pateiktų teiginių apie viduramžių Europą neteisingas?
 - A Didelę įtaką visuomenės gyvenimui darė katalikų bažnyčia.
 - B Didžiąją Europos dalį buvo užėmė miškai, plytėjo pelkės.
 - C Miestuose gyveno daugiau gyventojų negu kaime.
 - D XI – XII amžiuje atsirado gotikos stilius.

8. Kuri šių istorijos įvykių chronologinė tvarka yra teisinga:

1. kryžiaus žygiai;
2. Vakarų Romos imperijos žlugimas;
3. faraono Echnatono religinė reforma;
4. Olimpinių žaidynių pradžia Graikijoje.

- A** 2, 3, 4, 1;
B 2, 1, 3, 4;
C 3, 4, 2, 1;
D 1, 2, 3, 4.

9. Pirmasis Lietuvos karalius buvo:

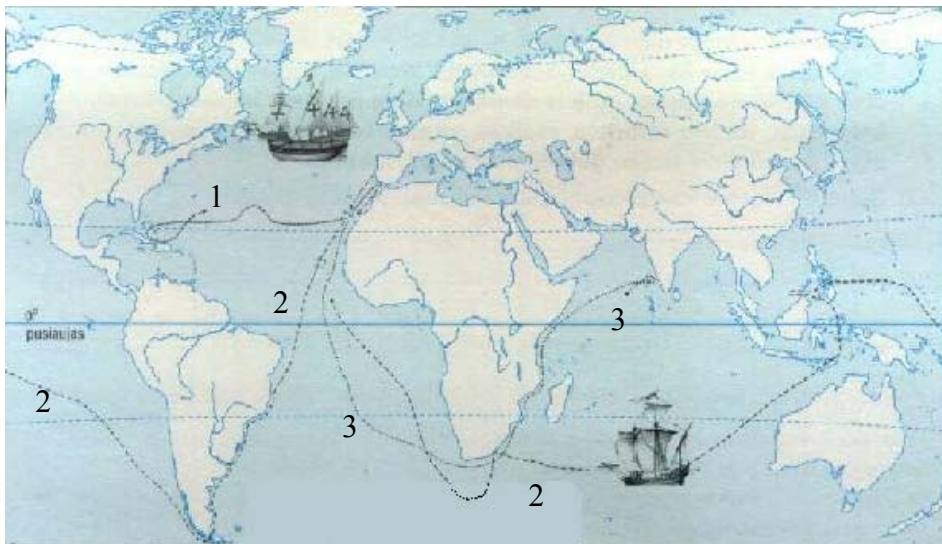
- A** Algirdas;
B Gediminas;
C Mindaugas;
D Vytautas.

10. Kas pavaizduota šioje XVI a. iliustracijoje?

- A** Ginklakalio dirbtuvės.
B Knygų spaustuvė.
C Pinigų keitykla.
D Staliaus dirbtuvės.



11. Remdamiesi pateiktu žemėlapiu atsakykite į po juo esančius klausimus:



11.1. Kurie XV–XVI amžiaus įvykiai atsispindi žemėlapyje?

- A** Didieji geografiniai atradimai.
- B** Krikščionybės plitimas pasaulyje.
- C** Kryžiaus žygiai.
- D** Reformacijos plitimas pasaulyje.

11.2. Kurios dvi valstybės tapo šių įvykių pradininkėmis:

11.3. Nurodykite, kurie asmenys plaukė maršrutais, pažymėtais skaičiais 1, 2, 3.

1-uoju maršrutu
 2-uoju maršrutu
 3-uoju maršrutu

11.4. Kokio tikslo siekė skaičiais 1 ir 3 pažymėtais maršrutais plaukę asmenys?

Maršrutu, pažymėtu skaičiumi 1
 Maršrutu, pažymėtu skaičiumi 3

11.5. Kaip pasikeitė įsivaizdavimas apie žemę po kelionės, žemėlapyje pažymėtos skaičiumi 2?

12. Kuris iš paminėtų principų nėra demokratijos požymis?

- A** Kiekvieno piliečio laisvė balsuoti už patinkantį kandidatą.
- B** Kiekvieno piliečio laisvė elgtis kaip jis to nori.
- C** Valstybės pareiga rūpintis mažumų teisėmis.
- D** Visų šalies piliečių lygybė prieš įstatymą.

13. Kuris teiginys teisingas kalbant apie įstatymus valstybėje?

- A** Įstatymai galioja tik tos valstybės piliečiams.
- B** Įstatymai negalioja tik tos valstybės piliečiams.
- C** Įstatymai reguliuoja piliečių elgesį.
- D** Įstatymus kuria ir leidžia policija.

14. Teisinė valstybė yra tik tada, kai

- A** parlamentarai nesikiša į teisėjų darbą šiems nagrinėjant bylas;
- B** teisėjai, sprenddami bylas, taiko išimtis iš įstatymų parlamento nariams;
- C** teisėjai, sprenddami bylas, privalo vadovautis tik savo sąžine;
- D** už smulkius nusikaltimus baudžiama vienodai kaip ir už stambius.

15. Perskaityt žemiau esančią informaciją, atsakykite į klausimus:

INFORMACIJA APIE MOKYKLĄ INTERNETE

Mokyklą 1993 m. įsteigė Vilniaus bažnyčia "Tikėjimo žodis". 2002-2003 m. m. mokykloje mokosi 85 moksleiviai, dirba 24 pedagogai. Moksleiviai mokosi ikimokyklinio ugdymo bei 1–10 klasėse. Mokslas mokamas. 2002-2003 m. m. mėnesinis mokestis už pradinį mokslą yra 220 Lt, o už pagrindinį – 270 Lt.

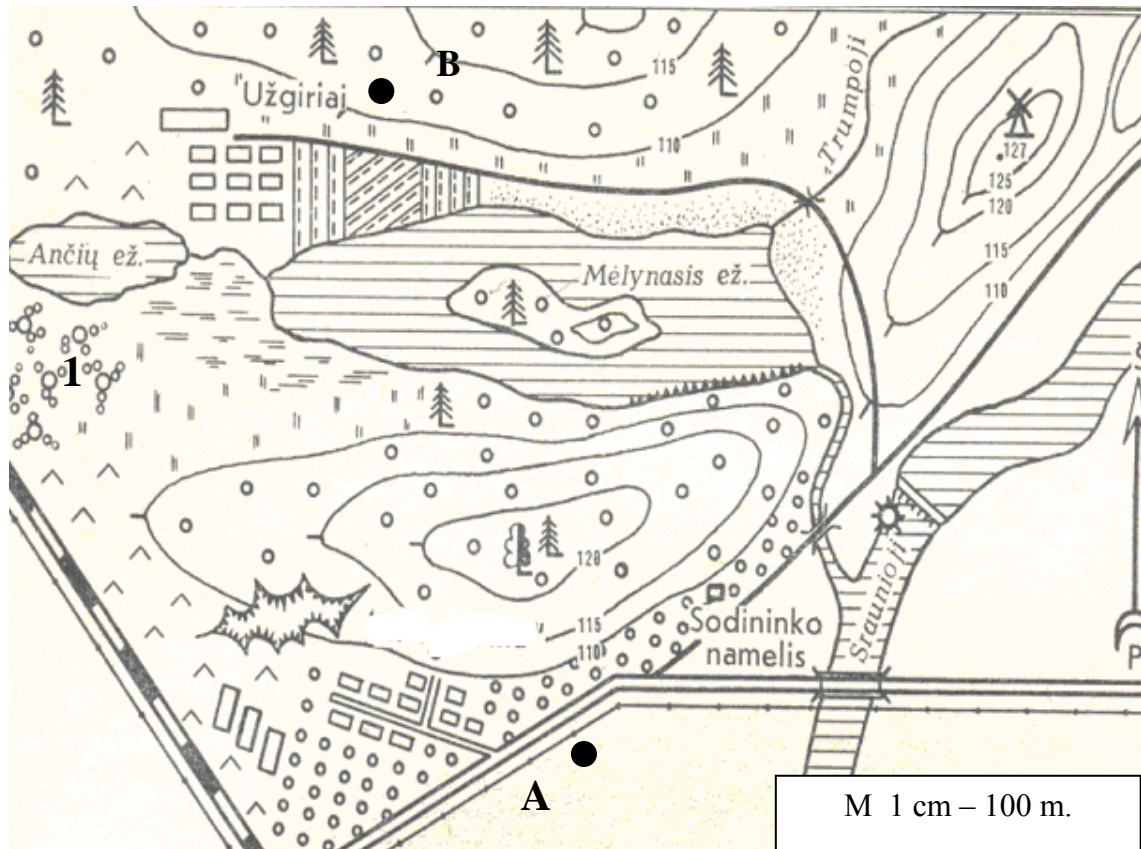
- 15.1. Trys teiginiai yra nuomonės, o vienas – faktas. Kuris?
- A** Šią mokyklą mokiniai renkasi dėl noro mokytis mažose klasėse.
 - B** Ši mokykla nėra valstybinė ir mokslas joje mokamas.
 - C** Šioje mokykloje mokestis už mokslą yra palyginti nedidelis.
 - D** Šioje mokykloje teikiamas geresnis išsilavinimas, nei kitose mokyklose.
- 15.2. Šios mokyklos vadovai:
- A** nepažeidžia Lietuvos Respublikos įstatymų, nes mokykla nėra valstybinė.
 - B** nepažeidžia Lietuvos Respublikos įstatymų, nes mokykloje mokosi nedaug mokinių.
 - C** pažeidžia Lietuvos Respublikos įstatymus, nes klasės yra per mažos.
 - D** pažeidžia Lietuvos Respublikos įstatymus, nes mokslas iki 16 metų yra privalomas.
16. Į rytus nuo Lietuvos yra:
- A** Latvija ir Estija;
 - B** Rusija ir Baltarusija;
 - C** Graikija ir Ispanija;
 - D** Švedija ir Suomija.
17. Žemė aplink Saulę apsisuka per:
- A** 24 valandas;
 - B** 365 valandas;
 - C** 365 paras;
 - D** 24 paras.
18. Kokie esminiai požymiai būdingi platformoms?
- A** Uolienos sustumtos į raukšles.
 - B** Senumas ir stabilumas.
 - C** Būna žemės drebėjimai.
 - D** Plyti aukštai iškelti kalnai.
19. Kurioje iš išvardintų geografinių zonų labiausiai trūksta šilumos javams auginti:
- A** pusdykumių geografinėje zonoje;
 - B** kietalapių miškų ir krūmynų geografinėje zonoje;
 - C** tundros geografinėje zonoje;
 - D** stepių geografinėje zonoje.
20. Kurie iš išvardintų dirvožemių yra derlingiausi?
- A** Miškų rudžemiai.
 - B** Juodžemiai.
 - C** Jauriniai.
 - D** Tundrų glėjiniai.
21. Vertikalių zonų kaita kalnuose priklauso:
- A** nuo kalnų geologinės sąrangos;
 - B** nuo vyraujančių vėjų;
 - C** nuo geografinės padėties ir kalnų aukščio;
 - D** nuo jūros artumo.

22. Kokioms kalbų grupėms priklauso šios kalbos?

1) Latvių kalba

2) Anglų kalba

23. Išžiūrėkite į topografinį planą ir atlikite žemiau pateiktas užduotis:



23. 1. Apskaičiuokite, koku atstumu taškas A yra nutolęs nuo taško B.

Vieta skaičiavimams:

.....

23. 2. Koks objektas pažymėtas skaičiumi 1?

.....

23. 3. Kokiame aukštyje yra vėjo malūnas?

.....

23. 4. Kokia kryptimi yra taškas B nuo taško A ?

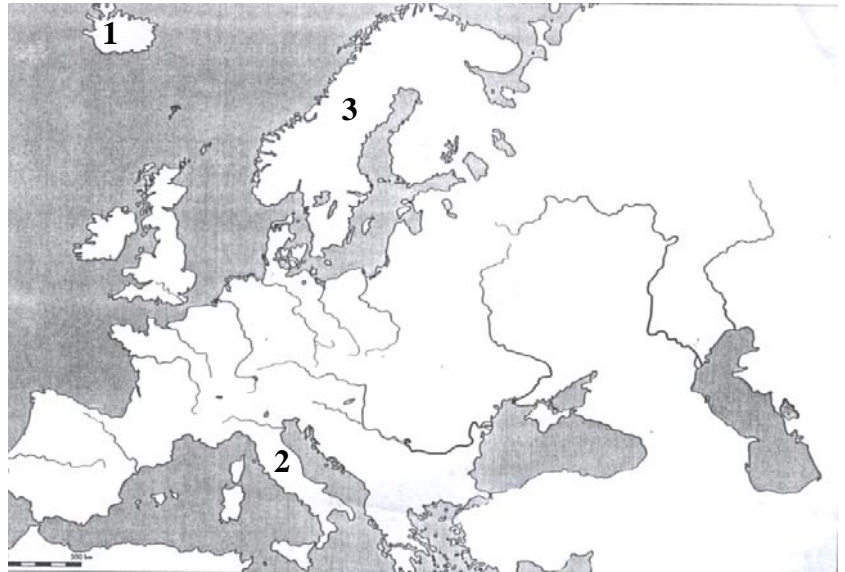
.....

24. Parašykite, kokios salos ir pusiasaliai pažymėti skaičiais žemėlapyje.

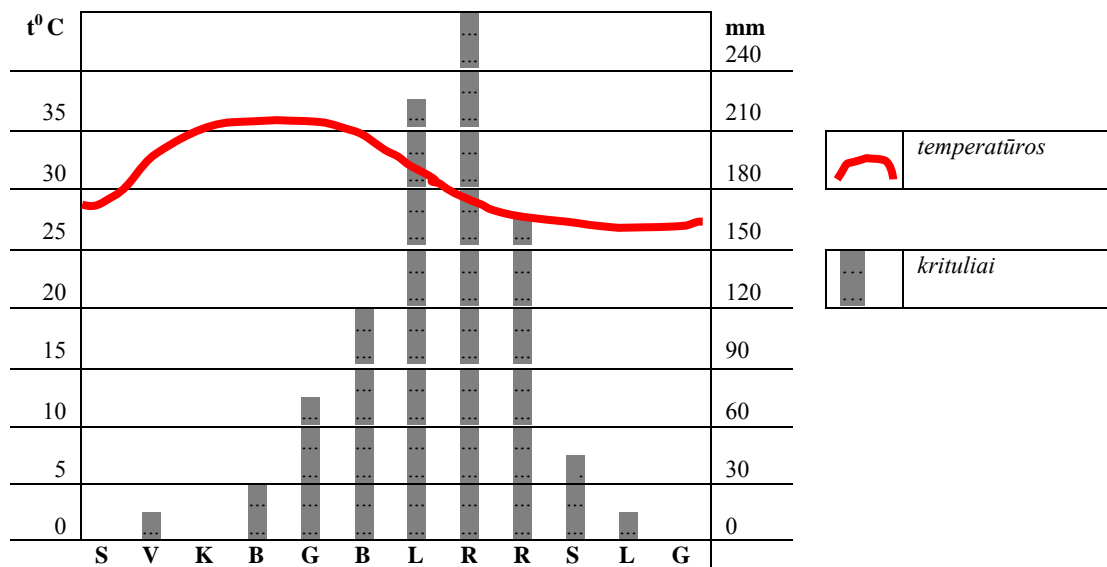
Skaičiumi 1 –

Skaičiumi 2 –

Skaičiumi 3 –



25. Paanalizuokite pateiktą klimatogramą ir atsakykite į klausimus:



25.1. Kuriuo metų laiku iškrenta daugiausia kritulių?

- A** Žiemą.
- B** Vasarą.
- C** Pavasarį.
- D** Rudenį.

25.2. Kurie mėnesiai yra šilčiausi?

25.3. Kokia klimato juosta atitinka pavaizduoti klimato rodikliai?

- A** Pusiaujo.
- B** Subekvatorine.
- C** Tropine.
- D** Vidutinių platumų.