

1. Pasirinkite teisingą šių įvykių chronologinę seką.

1. Antrosios sovietų okupacijos pradžia Lietuvoje.
2. Didžiosios ekonominės krizės pradžia.
3. Lietuvos nepriklausomybės kovos.
4. Pirmojo žmogaus skrydis į kosmosą.

- A 1, 4, 3, 2.
B 3, 2, 1, 4.
C 2, 3, 4, 1.
D 1, 2, 3, 4.

(1 taškas)

2. Lietuvoje autoritarinio režimo metais:

- A egzistavo spaudos laisvė;
B uždrausta tautininkų partija;
C išplėtos prezidento galios;
D pradėta kurti kolūkius.

(1 taškas)

3. 1919 m. Paryžiaus taikos konferencijoje susitarta:

- A suskaldyti Vokietiją;
B apriboti Vokietijos karinę galią;
C atkurti Austrijos-Vengrijos valstybę;
D gražinti Lietuvai Vilniaus kraštą.

(1 taškas)

4. Kuris iš šių teiginių apie laikotarpį tarp dviejų pasaulinių karų yra teisingas?

- A Susikūrė Jungtinių Tautų Organizacija.
B Kilo Didžioji ekonominė krizė.
C Lietuva tapo pramonine valstybe.
D Pastatyta Berlyno siena.

(1 taškas)

5. Antisemitizmas laikotarpiu tarp dviejų pasaulinių karų tapo oficialia valstybės politika:

- A Anglijoje;
B Prancūzijoje;
C SSRS;
D Vokietijoje.

(1 taškas)

6. Kas būdinga Lietuvai 1864–1904 m.?

- A Privalomo pradinio mokslo įvedimas.
B Lietuviškos spaudos draudimas.
C Sovietų Sąjungos okupacija.
D Vokietijos okupacija.

(1 taškas)

Perskaitykite ištraukas ir atsakykite į toliau einančius klausimus.

„1917 m. Vilniaus konferencijoje buvo išrinktas į Lietuvos Tarybą ir iki 1919 m. buvo jos pirmininku.“

„Po 1926 m. gruodžio perversmo iki 1940 m. birželio buvo Lietuvos prezidentas.“

„Sovietams okupavus Lietuvą, pasitraukė į Vokietiją, vėliau į JAV.“

7. Apie kurį Lietuvos Respublikos prezidentą kalbama ištraukose?

- A A. Brazauską.
- B K. Grinių.
- C A. Smetoną.
- D A. Stulginskį.

(1 taškas)

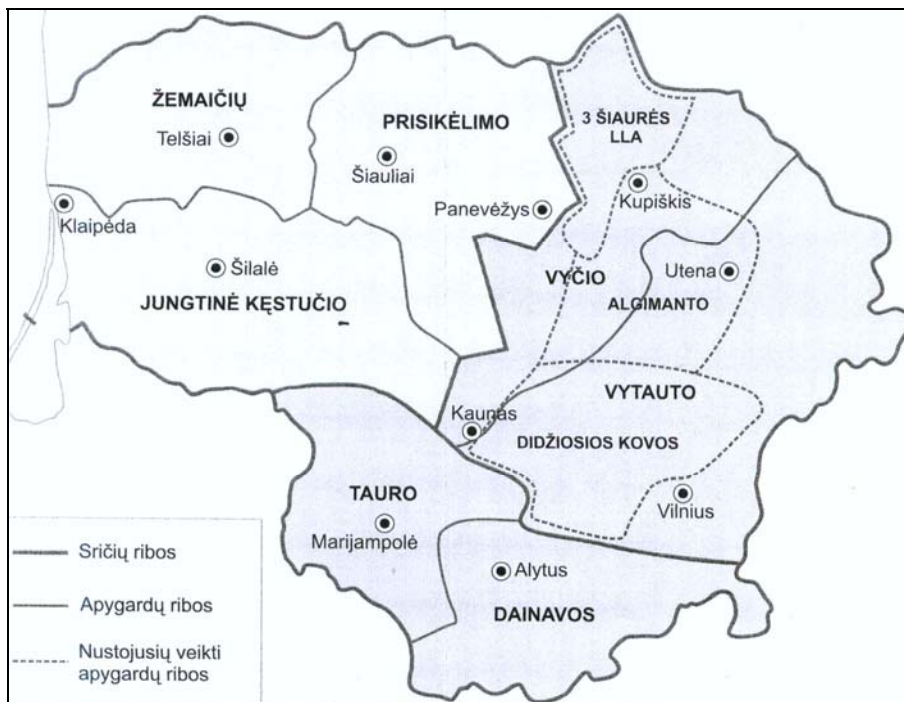
8. Kas 1918 m. vasario 16 d. paskelbė Lietuvos nepriklausomybę?

- A Lietuvos prezidentas.
- B Lietuvos Taryba.
- C Ministras pirmininkas.
- D Steigiamasis Seimas.

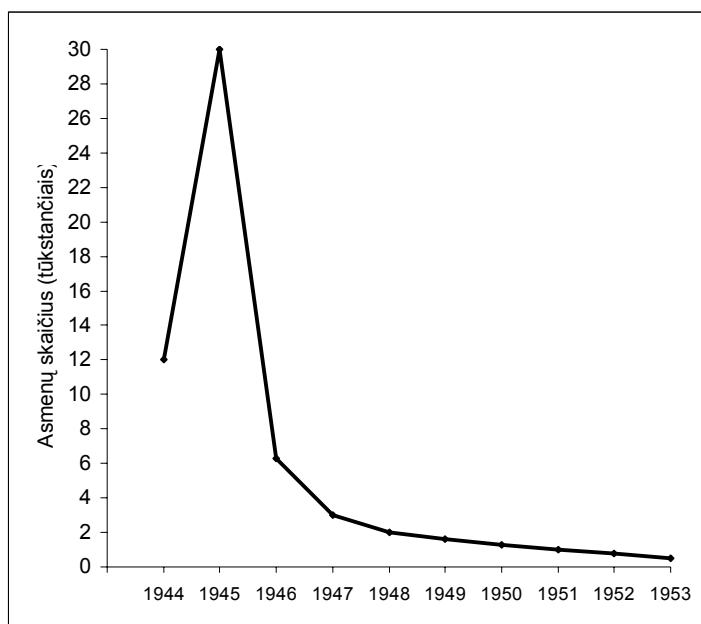
(1 taškas)

9. Remdamasis pateiktu žemėlapiu ir diagrama, atsakyk į pateiktus klausimus.

ŠALTINIS A. Žemėlapis



ŠALTINIS B. Partizanų skaičius Lietuvoje



9.1. Kokį Lietuvos istorijos reiškinį atspindi šaltiniai A ir B?

_____ (1 taškas)

9.2. Kuriame amžiuje vyko šis reiškinys?

_____ (1 taškas)

9.3. Kokią išvadą galite padaryti apie šio reiškinio eigą, remdamiesi šaltiniu B?

_____ (1 taškas)

9.4. Kodėl apygardas partizanai pavadindavo didžiųjų Lietuvos kunigaikščių vardais?

_____ (1 taškas)

9.5. Kodėl kai kurios apygardos nustojo veikti?

_____ (1 taškas)

10. Remdamasis pateiktais šaltiniais, atsakyk į tolesnius klausimus.

Šaltinis A. Ištrauka iš sutarties

2. ... teritorijos evakuacija baigsis iki spalio 10 d., <...> čekoslovakų vyriausybė prisiima atsakomybę, jog srities evakuacija vyks nesugriaunant ten esamų statinių. <...>


4. Nuo spalio 1 d. vokiečių armija pradeda užimti rajonus, kuriuose daugumą gyventojų sudaro vokiečiai. <...>

8. Čekoslovakijos vyriausybė per keturias savaites nuo šios sutarties pasirašymo atleis nuo karo prievolės ir policijos tarnybos visus Sudetų vokiečius, kurie to panorės. <...>

Šaltinis B. Ištrauka iš vadovėlio

1939 m. kovo 22 d. buvo pasirašyta Lietuvos Respublikos ir Vokietijos sutartis dėl Klaipėdos krašto atidavimo. Tą pačią dieną Klaipėdą užėmė Vokietijos kariuomenė.

Šaltinis C. Karikatūra



Užrašai ant nukritusios vynuogių kekės: Čekoslovakija, Austrija, Memelis (Klaipėda).

10.1. Kaip vadinama sutartis, kurios ištrauka pateikta šaltinyje A?

- A Miuncheno.
- B Prahos.
- C Varšuvos.
- D Versalio.

(1 taškas)

10.2. Prieš kurią valstybę buvo nukreipta ši sutartis?

(1 taškas)

10.3. Kurių valstybių atstovai pasirašė sutartį, kurios ištrauka pateikta šaltinyje A?

- A Austrijos, Prancūzijos, Vokietijos ir Italijos.
- B Didžiosios Britanijos, Prancūzijos, Vokietijos ir Čekoslovakijos.
- C Didžiosios Britanijos, Prancūzijos, Vokietijos ir Italijos.
- D Didžiosios Britanijos, Lenkijos, Vokietijos ir Italijos.

(1 taškas)

10.4. Kokie buvo sutarties, kurios ištrauka pateikta šaltinyje A, padariniai?

(1 taškas)

10.5. Kurį veikėją karikatūroje simbolizuoja lapė?

_____ (1 taškas)

10.6. Ką karikatūroje simbolizuoja ant žemės gulinti vynuogių kekė?

_____ (1 taškas)

10.7. Kada galėjo būti nupiešta karikatūra?

- A 1914–1918 m.
- B 1919–1933 m.
- C 1933–1938 m.
- D 1939–1945 m.

(1 taškas)

10.8. Kaip šaltiniuose A ir B pateikta informacija atsispindi šaltinyje C?

_____ (1 taškas)

10.9. Kuris iš pateiktų šaltinių yra pirminis – A ar B? Kodėl?

_____ (2 taškai)

11. Kuri iš šių teisių yra socialinė?

- A Teisė dalyvauti valdant savo šalį per demokratiškai išrinktus atstovus.
- B Teisė rinktis be ginklo į taikius susirinkimus.
- C Teisė turėti savo įsitikinimus ir juos laisvai reikšti.
- D Teisė turėti tinkamas, saugias ir sveikas darbo sąlygas.

(1 taškas)

12. Kuris teiginys apie Lietuvos Respublikos prezidento rinkimus yra teisingas?

- A Respublikos Prezidentą renka visi Lietuvoje gyvenantys žmonės penkeriems metams, remdamiesi visuotine, lygia ir tiesiogine rinkimų teise, viešu balsavimu.
- B Respublikos Prezidentą renka Lietuvos Respublikos piliečiai penkeriems metams, remdamiesi visuotine, lygia ir tiesiogine rinkimų teise, slaptu balsavimu.
- C Respublikos Prezidentą renka Lietuvos Respublikos Seimas trejiems metams, remdamasis visuotine ir lygia rinkimų teise, slaptu balsavimu.
- D Respublikos Prezidentą renka tauta septyneriems metams, remdamasi visuotine ir tiesiogine rinkimų teise, slaptu balsavimu.

(1 taškas)

13. Koks politinės sistemos požymis neleidžia laikyti valstybės demokratine?

- A Egzistuoja vienpartinė politinė sistema.
- B Prezidentą renka parlamentas, o ne visi piliečiai.
- C Ne visi šalies gyventojai turi rinkimų teisę.
- D Nėra prezidento institucijos.

(1 taškas)

14. Lietuvos Respublikos Vyriausybę sudaro:

- A Respublikos Prezidentas ir ministrai;
- B Ministras pirmininkas ir ministrai;
- C Respublikos Prezidentas ir Seimas;
- D Ministras pirmininkas ir Seimas.

(1 taškas)

15. Kokios žmogaus teisės pažeidimas vaizduojamas iliustracijoje?

(1 taškas)



16. Geografiniu požiūriu Lietuva yra:

- A Rytų Europos lygumos šiauriniame pakraštyje;
- B Rytų Europos lygumos vakariniame pakraštyje;
- C Rytų Europos lygumos rytiniame pakraštyje;
- D Rytų Europos lygumos pietiniame pakraštyje.

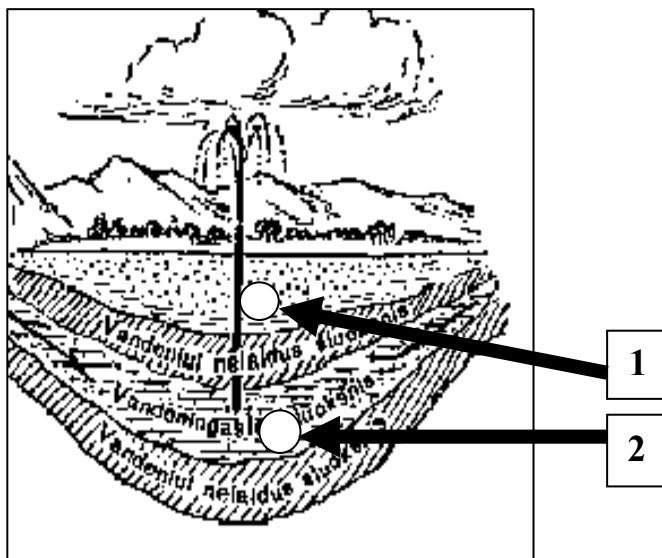
(1 taškas)

17. Pažymėkite tas oro mases, kurios lemia šiltesnį, nei turėtų būti pagal gaunamą Saulės radiacijos kiekį, Lietuvos klimatą.

- A Žemyninės tropinės oro masės, ateinančios iš pietų Rusijos stepių.
- B Žemyninės vidutinių platumų oro masės, ateinančios nuo Rytų Europos lygumos.
- C Jūrinės tropinės oro masės, ateinančios nuo Viduržemio jūros.
- D Jūrinės vidutinių platumų oro masės, ateinančios nuo Atlanto vandenyno.

(1 taškas)

18. Schemoje pavaizduoti požeminiai vandenys.



18.1. Skaičiais pažymėti gruntiniai ir arteziniai (tarpsluoksniniai) vandenys. Kokie vandenys pažymėti skaičiumi 1?

(1 taškas)

18.2. Kurie iš šių vandenu yra švariausi (parašyk vandenu pavadinimą)?

(1 taškas)

18.3. Atsakymą paaiškinkite.

(1 taškas)

19. Kokia akmens anglių kilmė?

- A Metamorfinė.
- B Magminė.
- C Nuosėdinė organinė.
- D Nuosėdinė cheminė.

(1 taškas)

20. Kokios kultūros sritis aprašyta tekste:

„Šioje kultūros srityje šventyklos puošiamos dekoratyvinėmis skulptūromis, raižytais ornamentais. Daug dėmesio skiriama peizažų, kiemu, sodų planavimui. Aplinka formuojama iš akmenų, miniatiūrinių krioklių, dirbtinų uolų bei medžių.“

- A Indijos.
- B Europos.
- C Rytų Azijos.
- D Lotynų Amerikos.

(1 taškas)

21. Įrašykite po vieną valstybę į tuščias vietas pagal valdymo formą: *Danija, Vokietija, JAV, Saudo Arabija*.

A Konstitucinė monarchija _____

B Absoliutinė monarchija _____

C Parlamentinė respublika _____

D Prezidentinė respublika _____

(4 taškai)

22. Įrašykite po vieną valstybę pagal vyraujančią religiją: *Indija, Italija, Nepalas, Iranas*

A Romos katalikai _____

B Induizmas _____

C Islamas _____

D Budizmas _____

(4 taškai)

23. Kuri iš šių šalių labiausiai urbanizuota?

A Islandija.

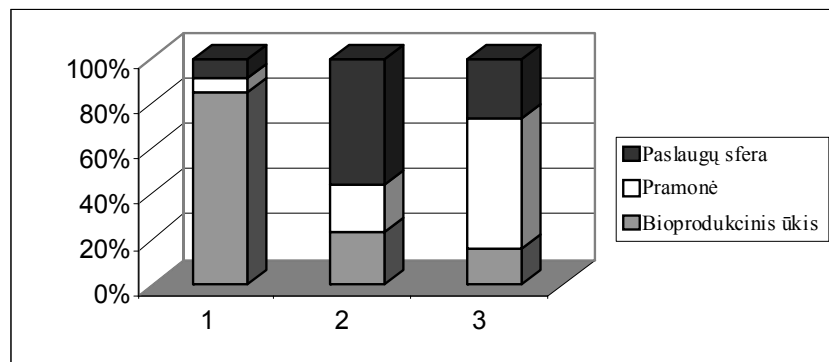
B Portugalija.

C Lietuva.

D Olandija.

(1 taškas)

24. Išnagrinėk diagramą, kurioje pavaizduotas trijų šalių dirbančiųjų pasiskirstymas pagal ūkio šakas.



24.1. Įrašyk numerį šalies, kuri pagal diagramą yra agrarinė.

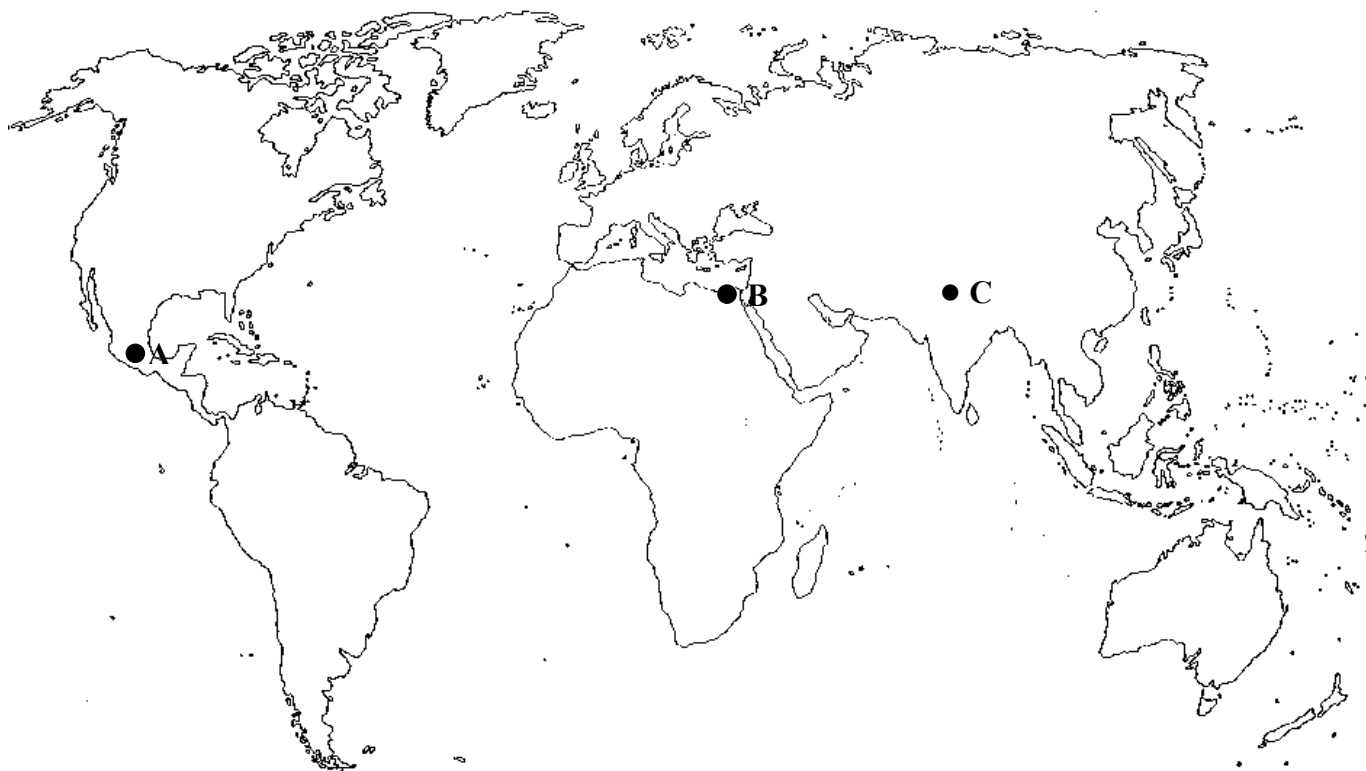
Agrarinė

(1 taškas)

24.2. Kiek procentų pramonės dirbančiųjų yra antroje valstybėje?

(1 taškas)

25. Įsižiūrėk į kartoschemą ir atlik užduotis.



M 1 : 160 000 000

25.1. Parašyk, kokie didžiausi pasaulio miestai pažymėti raidėmis.

A _____

B _____

C _____

(3 taškai)

25.2. Kokia kryptimi yra taškas A nuo taško B?

(1 taškas)

25.3. Apskaičiuok atstumą kilometrais nuo miesto A iki miesto B.

(1 taškas)

25.4. Kartoschemoje ženklu × pažymėk Lietuvą.

(1 taškas)

26. Apskaičiuok lentelėje pateiktų šalių gyventojų gimstamumą ir gautus duomenis įrašykite į lentelę.

<i>Valstybė</i>	<i>Gimstamumas 1000 gyv.</i>	<i>Mirtingumas 1000 gyv.</i>	<i>Natūralus prieaugis</i>
1. Lietuva		12	-1
2. Uganda		21	30
3. Danija		12	0

(3 taškai)

27. Atstumas tarp Vilniaus ir Palangos (važiuojant automobiliu) yra 336 km. Apskaičiuok, koks atstumas centimetrais atitiks šį kelią 1 : 1 500 000 mastelio žemėlapyje.

(1 taškas)