

1. Po Žalgirio mūšio, kuris įvyko metalis, kryžiuočiai prarado savo galybę. (Irašyk metus.)

(1 taškas)

2. Lietuvos krantus skalauja:

- A Baltoji jūra;
- B Raudonoji jūra;
- C Baltijos jūra;
- D Viduržemio jūra.

(1 taškas)

3. Archeologas tyrinėja iškasenas, astronomas – žvaigždes ir planetas, o biologas:

- A meno kūrinius;
- B gyvūnus ir augalus;
- C bales ir priebales;
- D chemines medžiagas.

(1 taškas)

4. Kai kurios sėklos **prikimba prie gyvūnų**, ir šie perneša jas į naują vietą, kur sėklos sudygsta. Kurio augalo sėklos plinta tokiu būdu?




A Ažuolas



B Šermukšnis



D Klevas



E Varnalėša



F Juodalksnis

(1 taškas)

5. Vaikai sėdėjo prie medžio ir stebėjo paukštį, traukiantį iš žievės plyšelių vabzdžius. Kuriam piešiniuke pavaizduotas to paukščio snapas:



A



B



C




D



E

(1 taškas)

6. Sudaryk mitybos grandinę. Į tuščią langelį įrašyk reikiamą žodį.



7. Kas išsivystys iš šio vikšro



A



B



C



D

(2 taškai)

8. Didžiąją Žemės paviršiaus dalį dengia vanduo. Užbrūkšniuok, kurią dalį Žemės paviršiaus sudaro vandenynai.

(3 taškai)

9. Mokyklos gamtininkai tyrinėjo pėdsakus sniege. Pasakyk, kieno šie pėdsakai:



- A žmogaus;
 B anties;
 C dramblio;
 D šuns.

(1 taškas)

10. Tavo kūną dengia oda. Kam ji reikalinga? Parašyk bent **du** atsakymus.

◆ _____
◆ _____
◆ _____

(2 taškai)

11. Mes kasdien galime matyti saulėtekį ir saulėlydį, nes:

- A saulė skrieja aplink Žemę;
- B žemė skrieja aplink Saulę;
- C žemė sukasi apie savo ašį;
- D žemė skrieja aplink Mėnulį.

(1 taškas)

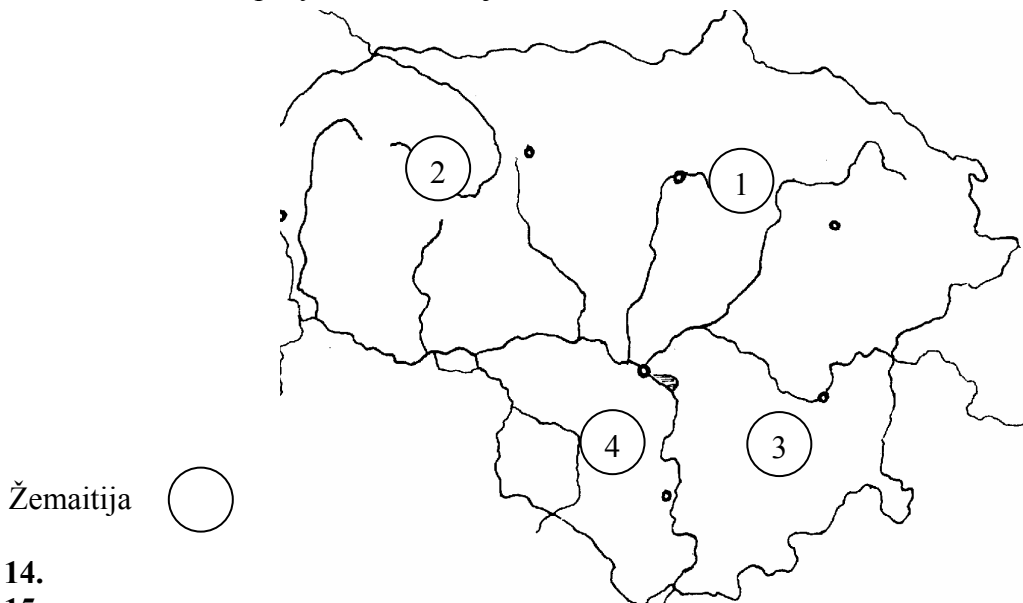
12. Stipriu magnetu galėtum atskirti:

- A smėlį nuo žvyro;
- B plastmasines sąvaržėles nuo geležinių;
- C popierines korteles nuo plastmasinių;
- D plastiko drožles nuo aliumininių.

(1 taškas)

13. Lietuvą sudaro šios etnografinės dalys: Aukštaitija, Žemaitija, Dzūkija, Suvalkija. Įrašyk skaičių, kuriuo pažymėta Žemaitija.

(2 taškai)



14.

15.

16.

17. Pirmąją knygą lietuvių kalba parašė:

- A Kristijonas Donelaitis;
- B Martynas Mažvydas;
- C Justinas Marcinkevičius;
- D Vincas Kudirka.

(1 taškas)

18. Lietuvių tautos atgimimo tėvu vadinamas:

- A Vytautas Landsbergis;
- B Algirdas Brazauskas;
- C Jonas Basanavičius;
- D Kunigaikštis Mindaugas.

(1 taškas)

19. Rokas eidamas į mokyklą mato šiuos kelio ženklus. Parašyk, ką jie reiškia: (2 taškai)



17. Naudodamasis sutartiniais ženklais, stačiakampyje nubraižyk vietovės planą. (3 taškai)




18. Kad apsigintų nuo priešų, senovės lietuviai statydavo pilis. Pažymėk, kur buvo statomos pilys:

- A ant kalnelių;
- B ant jūros kranto;
- C prie pelkių;
- D miško tankumynuose.

(1 taškas)


19. Iš paveikslėlių nustatyk ir parašyk, kokį paros metą rodo šešėlis:



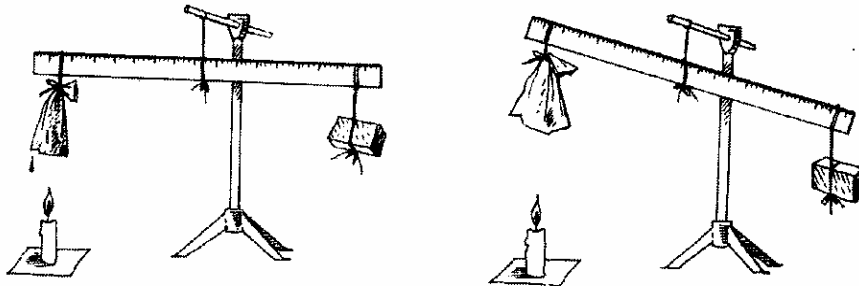
A..... B.....

C..... (2 taškai)

20. Pažymėk, kuri lemputė švies.
(1 taškas)



21. Parašyk, kodėl palengvėjo šlapias audinys:



(2 taškai)

22. Kurios medžiagos yra greitai, kurios lėtai? Pažymėk rodyklėmis. (2 taškai)

GREITAI YRANČIOS MEDŽIAGOS	LĒTAI YRANČIOS MEDŽIAGOS
POPIERIUS	PLASTMASĖ
STIKLAS	MAISTO ATLIEKOS


23. Užbaik mintį:

Svarbiausieji Užgavėnių veikėjai yra _____ (2 taškai)

24. Jeigu tau reiktų kuo greičiau perduoti svarbią informaciją, kuo ją pasiųstum? Parašyk 3 būdus (priemones):

- ◆ _____
- ◆ _____
- ◆ _____ (2 taškai)

25. Daug žmonių padeda maistui atsirasti ant mūsų stalo. Iš pateikto sąrašo parink tinkamus pavadinimus šiems piešinukams.



Vartotojas Supirkėjas Gamintojas Sandėlininkas Pardavėjas

(1 taškas)

26. Parašyk tris dalykus, į kuriuos kreipsi dėmesį, rinkdamasis prekę.

◆ _____
◆ _____
◆ _____

(2 taškai)

27. Kad žmonių gyvenimas būtų darnus ir tvarkingas, reikalingi įstatymai. Kas Lietuvoje leidžia įstatymus:

- A referendumas;
- B seimas;
- C žiniasklaida;
- D savivaldybė.

(1 taškas)

28. Paaiškind, koks žmogus yra:

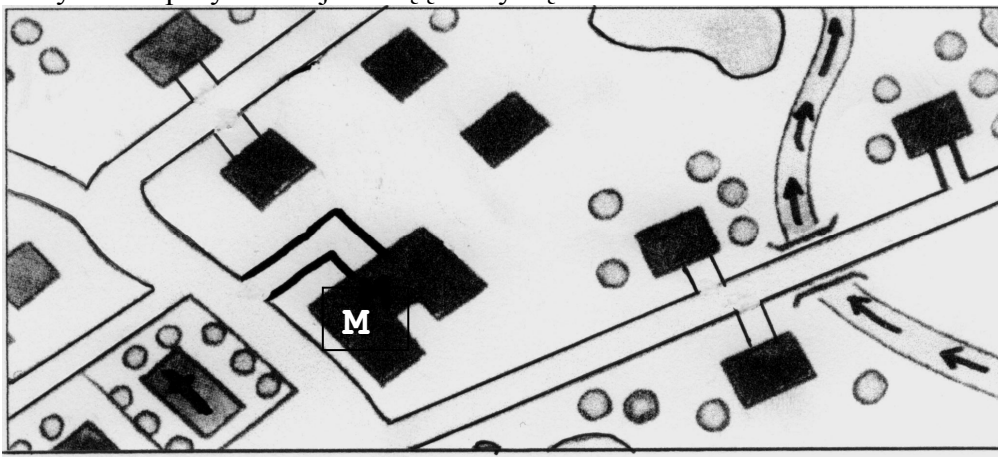
draugiškas: _____

mandagus: _____

(2 taškai)

29. Įsižiūrėk į vietovės planą. Julius gyvena name, kuris yra dešiniajame upės krante. Rodyklėmis pažymėkite jo kelią į mokyklą.

(1 taškas)



30. Konstitucija yra:

- A dainos pavadinimas;
- B pagrindinis valstybės įstatymas;
- C kino filmo pavadinimas;
- D šalies pavadinimas.