

SOCIALINIAI MOKSLAI

1. Perskaitytę ištrauką atsakyk į klausimą.

„<...> Geografinė padėtis yra kintanti. Lietuva, būdama Europos viduryje, apsupta stipresnių valstybių, yra patekusi ne kartą į politinių konfliktų zoną bei buvo užimta didžiųjų kaimynų. Lietuvos Didžiąją Kunigaikštystę iš vakarų puldinėjo Kryžiuočių ordinas, iš šiaurės – Livonijos ordinas, vėliau – švedai, iš rytų grėsė totorių mongolų antpuoliai, vėliau – sustiprėjusios Rusijos aneksija.”

S. Vaitekūnas, E. Valančienė. Lietuvos geografija 9 klasei. Vilnius, 1998, p. 14.

Kokia Lietuvos geografinė padėtis yra aprašyta tekste?

- A Geopolitinė.
- B Kultūrinė.
- C Gamtinė.
- D Ekonominė.

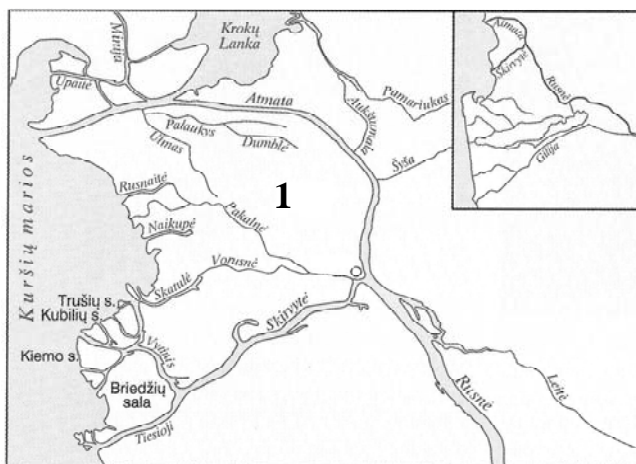
(1 taškas)

2. Išnagrinėk schemą ir atlik užduotis.

2.1. Kuri Nemuno dalis yra pavaizduota schemoje?

- A Aukštupys.
- B Vidurupis.
- C Žemupys.

(1 taškas)



2.2. Nemuno šakų apjuostoje teritorijoje formuojasi didžiausia Lietuvoje sąnašinė sala (pažymėta skaičiumi 1). Parašyk šios salos pavadinimą.

(1 taškas)

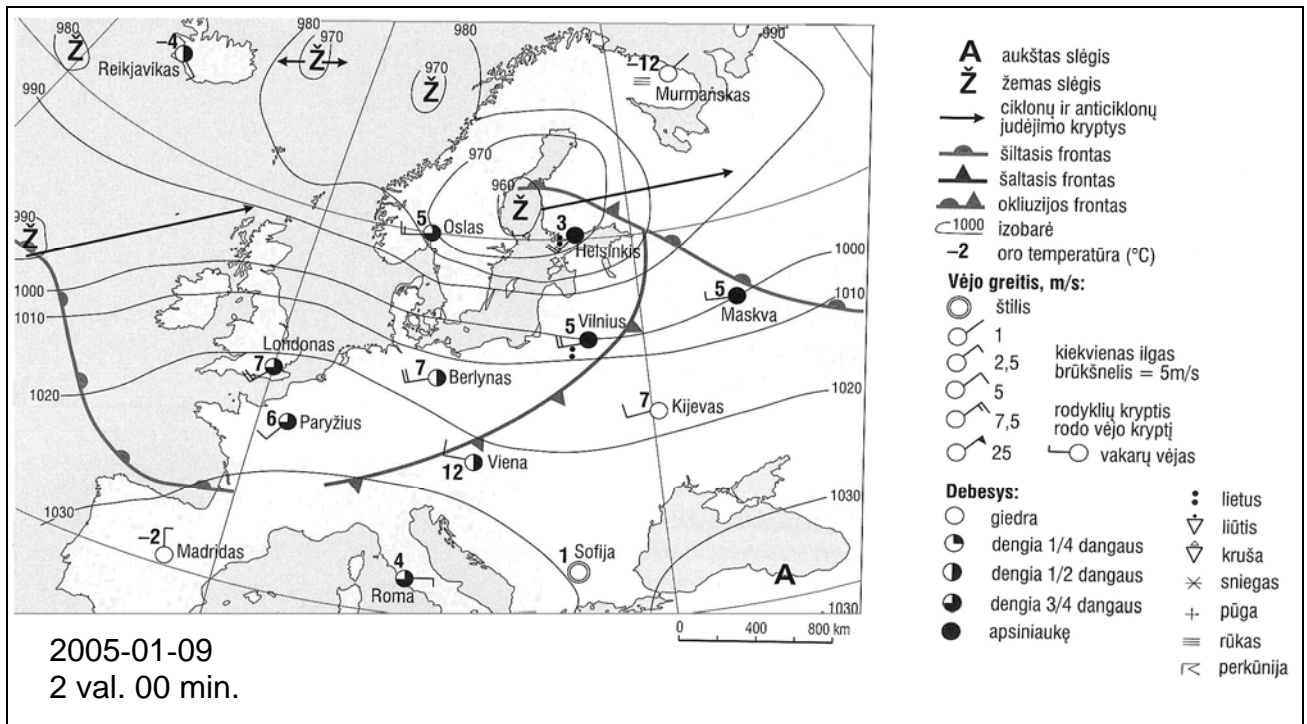
3. Nusausintos ir sukultūrintos žemės, esančios žemiau jūros lygio, potvynių metu nuolatos užliejamos. Šiose teritorijose yra sukurta polderių sistema: supilti pylimai, iškasti kanalai, pastatyta siurblių. Kurioje iš šių valstybių yra įrengta tokia polderių sistema:

- A Suomijoje;
- B Olandijoje;
- C Islandijoje;
- D Norvegijoje.

(1 taškas)

SOCIALINIAI MOKSLAI

4. Naudodamasis pateiktu sinoptiniu žemėlapiu atlik užduotis.



Apibūdinkite orus Vilniuje:

4.1. temperatūra (1 taškas)

4.2. vyraujanti vėjo kryptis (1 taškas)

4.3. Koks oras artimiausiu metu (po 1-2 dienų) bus Vilniuje?

- A Saulėtas ir šaltas.
- B Šiltas ir drėgnas, staigiai atšils.
- C Apsiniaukęs su nesiliaujančiais krituliais.
- D Apsiniaukęs, laukiama atlydžio.

(1 taškas)

5. Remdamasis pateiktu tekstu atsakyk į klausimą.

Didelės šios teritorijos dalies klimatas karštas ir drėgnas. Iš čia po pasaulį paplito pomidorai, pupelės, bulvės. Didžiųjų geografinių atradimų metu užkariautojus viliojo derlingos žemės, naudingosios iškasenos. Per keletą šimtmečių susiformavo marga gyventojų rasinė, tautinė, kultūrinė įvairovė. Didžioji dalis gyventojų yra susitelkusi prie vandenynų, kur yra įsikūrę vieni iš didžiausių pasaulyje miestų.

Kokia kultūros sritis yra aprašyta?

- A Šiaurės Amerikos.
- B Juodosios Afrikos.
- C Lotynų Amerikos.
- D Europos.

(1 taškas)

SOCIALINIAI MOKSLAI

6. Lentelėje pateiktos svarbiausių pramonės pošakių (veiklų), pažymėtų raidėmis A, B, C ir D, ypatybės. Šių pošakių aprašymus priskirk juos atitinkantiems pavadinimams (prie pavadinimų įrašyk raides A, B, C ir D).

| <i>A</i> | <i>B</i> | <i>C</i> | <i>D</i> |
|--|---|--|---|
| <i>Pastaruju metu šioje veikloje mažiausiai naudojama medienos, akmens anglies, gamtinių dujų, o daugiausiai naudojama naftos.</i> | <i>Dėl didelės oro taršos stiprios šalys šios veiklos vystymą perkėlė į ekonomiškai silpnas šalis. Didžiausi centrai susitelkę prie jūrų uostų, akmens anglies bei rūdų kasimo rajonuose.</i> | <i>Produkcija surenkama vartojimo rajonuose, o atskirų mazgų ir detalių fabrikai išmėtyti po visą pasaulį.</i> | <i>Šios veiklos centrų išdėstymas priklauso nuo daugelio veiksnių, Pavyzdžiui,, Vokietijoje, Ukrainoje, JAV senieji centrai plėtojami anglių gavybos rajonuose, o naujieji centrai kuriami netoli jūrų uostų.</i> |

Pramonės pošakiai (veiklos):

kuro pramonė

chemijos pramonė

juodoji metalurgija

automobilių pramonė

.....
(3 taškai)

7. Kuris iš šių išteklių naudojamas ketui ir plienui lydėti?

- A** Boksitai.
- B** Vario rūda.
- C** Sidabro rūda.
- D** Akmens anglis.

.....
(1 taškas)

8. Naudodamasis žemėlapiu atlik užduotis.



- 8.1. Žemėlapyje ženklu **x** pažymėk valstybę, kurios valdymo forma yra konstitucinė monarchija, užrašyk žemėlapyje šios valstybės pavadinimą.
.....
(1 taškas)

- 8.2. Skaičiumi **1** pažymėk šalį, nepriklausančią Europos Sąjungai.
.....
(1 taškas)

- 8.3. Kokia kryptimi (pagal pasaulio kryptis) nuo Vilniaus yra Danijos sostinė?
.....
(1 taškas)

- 8.4. Parašykite dvi žemėlapyje pavaizduotas šalis, kurių daugumos gyventojų kalba priklauso germanų kalbinei grupei.
.....
.....
(1 taškas)

- 8.5. Kurios iš žemėlapyje pavaizduotų šalių dauguma gyventojų išpažįsta Romos katalikybę? Parašykite šalies pavadinimą.
(1 taškas)

SOCIALINIAI MOKSLAI

9. Apskaičiuok lentelėje nurodytų šalių gyventojų natūralųjį prieaugį ir gautus duomenis įrašyk į lentelę.

| <i>Valstybė</i> | <i>Gimstamumas 1000 gyv.</i> | <i>Mirtingumas 1000 gyv.</i> | <i>Natūralusis prieaugis</i> |
|-----------------|------------------------------|------------------------------|------------------------------|
| 1. Latvija | 11 | 12 | |
| 2. Etiopija | 53 | 20 | |
| 3. Danija | 12 | 12 | |

(3 taškai)

10. Pagal 2001 metų surašymo duomenis, Lietuvoje buvo 3,49 mln. gyventojų. Remdamasis šiais duomenimis apskaičiuok Lietuvos gyventojų tankumą (vidutinį gyventojų skaičių 1 km²) Lietuvos plotas – 65 300 km².

Atsakymas:

(1 taškas)

11. Pasirink teisingą šių įvykių chronologinę seką.

1. Antisovietiniai sukilimai Vengrijoje ir Čekoslovakijoje.
2. Lietuvos Steigiamojo Seimo veikla.
3. Nacistinės Vokietijos okupacija Lietuvoje.
4. Šaltojo karo pabaiga.

- A 1, 4, 3, 2.
B 3, 2, 1, 4.
C 2, 3, 1, 4.
D 1, 2, 3, 4.

(1 taškas)

12. XIX amžiuje:

- A atkurta Lietuvos valstybė;
B sudaryta Liublino unija;
C Lietuvoje kuriami kolūkiai;
D uždrausta lietuviška spauda.

(1 taškas)

13. Antrosios sovietų okupacijos metais Lietuvoje buvo:

- A iš bibliotekų šalinamos komunistų autorių knygos;
B mokyklose steigiamos komjaunuolių ir pionierių organizacijos;
C savininkams sugrąžintos nacionalizuotos privačios įmonės;
D naikinami kolūkiai ir jų žemė atiduodama ūkininkams.

(1 taškas)

14. Šaltojo karo metu:

- A Baltijos šalys atgavo nepriklausomybę;
B įkurta tarptautinė organizacija – Tautų Sąjunga;
C kilo karinis konfliktas tarp Vokietijos ir Sovietų Sąjungos;
D tarp JAV ir Sovietų Sąjungos vyko ginklavimosi varžybos.

(1 taškas)

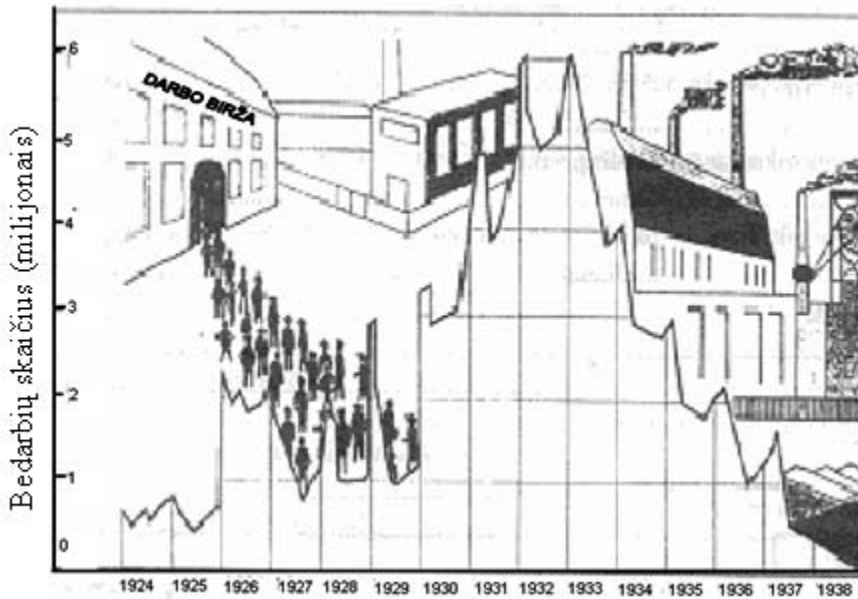
SOCIALINIAI MOKSLAI

15. Lietuvos nepriklausomybės atkūrimas XX a. pabaigoje susijęs su:

- A gyventojų trėmimais;
- B knygnešių veikla;
- C Lietuvos Persitvarkymo Sąjūdžio veikla;
- D Pirmojo pasaulinio karo pabaiga.

(1 taškas)

16. Remdamasis grafiku, vaizduojančiu bedarbių skaičių Vokietijoje, atsakyk į pateiktus klausimus.



16.1. Kaip keitėsi nedarbo lygis Vokietijoje 1924–1938 m.?

.....
(1 taškas)

16.2. Remdamasis grafiku, pagrįsk arba paneik teiginį, kad A. Hitlerio valdomoje Vokietijoje buvo įveiktas nedarbas.

.....
(1 taškas)

16.3. Kodėl 1938 m. Vokietijoje beveik neliko bedarbių?

.....
(1 taškas)

SOCIALINIAI MOKSLAI

18. Kurios iš išvardytų funkcijų **neatlieka** Lietuvos Respublikos Prezidentas?

- A Garantuoja valstybės saugumą ir viešąją tvarką.
- B Sprendžia pagrindinius užsienio politikos klausimus.
- C Pasirašo Lietuvos Respublikos tarptautines sutartis.
- D Įstatymo nustatyta tvarka teikia Lietuvos Respublikos pilietybę.

(1 taškas)

19. Viena iš būtinų sąlygų pilietinei visuomenei gyvuoti yra demokratiniai rinkimai. Paaiškink, kodėl pilietinėje visuomenėje yra būtini demokratiniai rinkimai.

.....
.....

(1 taškas)

20. Seimo nariai renkami:

- A visam laikui, remiantis visuotine, lygia, tiesiogine rinkimų teise ir slaptu balsavimu;
- B dešimčiai metų, remiantis visuotine, lygia, tiesiogine rinkimų teise ir slaptu balsavimu;
- C ketveriems metams, remiantis visuotine, lygia, tiesiogine rinkimų teise ir viešu balsavimu;
- D ketveriems metams, remiantis visuotine, lygia, tiesiogine rinkimų teise ir slaptu balsavimu.

(1 taškas)

21. Remdamasis šaltiniais A ir B, atsakyk į toliau pateiktus klausimus.

Šaltinis A

„Saudo Arabijoje, Irane, Sirijoje ir Irake žurnalistai kasdien susiduria su represijomis ir cenzūra.“

Šaltinis B

„Baltarusijoje įvykusi demonstracija prieš autoritarinį prezidentą vėl virto grumtynėmis tarp demonstrantų ir milicijos. Buvo smarkiai sumuštas vienas opozicijos lyderių, nukentėjo trys žurnalistai, suimti 44 demonstracijos dalyviai.“

21.1. Kokia žmogaus laisvė pažeidžiama šalyse, nurodytose šaltinyje A?

.....
.....

(1 taškas)

21.2. Kokia žmogaus laisvė pažeidžiama Baltarusijoje (šaltinis B)?

.....
.....

(1 taškas)