

PASAULIO PAŽINIMAS

1. Iš kur šie žodžiai „...tegu tavo vaikai eina vien takais dorybės...“?

Iš _____

2. Kam buvo pastatytos Egipto piramidės?

3. Jeigu jūs būtumėte paleontologai, kur ieškotumėte dinosauro, gyvenusių prieš milijonus metų, liekanų?

- A Tvenkinio lede.
- B Medžių kamienuose.
- C Uolienose.
- D Upių ir ežerų vandenyje.

4. Kokia seka dygsta ir auga pupa?

- A 3, 2, 4, 1.
- B 2, 1, 4, 3.
- C 3, 2, 1, 4.
- D 4, 2, 3, 1.



1



3



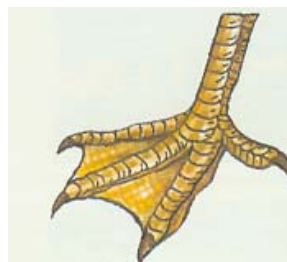
2



4

5. Paveikslėlyje pavaizduota paukščio pėda. Kurioje vietoje dažniausiai galima būtų sutikti tokių paukščių?

- A Miške.
- B Pievoje.
- C Rugių lauke.
- D Paežerėje.
- E Dykumoje.



6. Skrituliukuose po paveikslėliais eilės tvarka sunumeruok ir paaškind šią mitybos grandinę:



1. _____
 2. _____
 3. _____

7. Kas kaip slepiasi nuo pavojų? Nuvesk strėles prie tinkamų kvadratėlių.

Stirna

gyvatė

kiškis

vapsvos

Gelbsti greitos
kojos

Gelbsti kiautas,
dygliai

Išleidžia
nuodus, gelia

ežys

sraigės

bitės

8. Kuriais pojūčiais – *klausos*, *uoslės* ar *skonio* – geriausiai atpažinsime šiuos daiktus?



9. Kaip padėtum žmogui, kurį ištiko saulės smūgis?

- A Paguldyčiau ir sušildyčiau.
 B Paguldyčiau šešėlyje ir atvėsinačiau.
 C Pastatyčiau ir kalbinčiau.
 D Standžiai sutvarstyčiau.

10. Lietuvoje po žiemos būtinai ateina pavasaris, po jo – vasara, vasarai pasibaigus – rudenis, o po rudens – vėl žiema. Kodėl keičiasi metų laikai?

- A Nes Žemė sukasi apie savo ašį.
- B Nes Mėnulis sukasi aplink Žemę.
- C Nes Žemė sukasi aplink Saulę.
- D Nes Saulė sukasi aplink Žemę.

11. Berniukas išmetė gumini kamoliuką į orą. Kodėl kamoliukas vėl nukrito ant žemės?

- A Žemė yra didelis magnetas.
- B Oras yra labai lengvas.
- C Žemės trauka gražino jį atgal.
- D Guma visada atšoka atgal.

12. Lentelėje matyti, kokios buvo oro sąlygos tą pačią dieną keturiuose skirtinguose miestuose:

	Miestas A	Miestas B	Miestas C	Miestas D
Žemiausia temperatūra	13°C	-9°C	22°C	-12°C
Aukščiausia temperatūra	25°C	-1°C	30°C	-4°C
Krituliai (lietus arba sniegas)	0 mm	5 mm	2,5 mm	0 mm

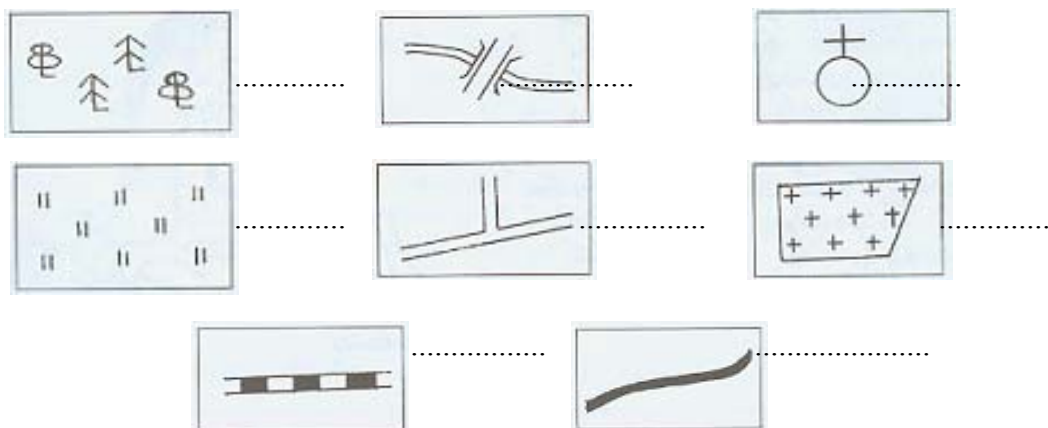
Kuriame mieste snigo?

- A Mieste A.
- B Mieste B.
- C Mieste C.
- D Mieste D.


13. Lietuva ribojasi su Latvija, Baltarusija, Lenkija ir Rusija (Kaliningrado sritimi). Prie sakičių 1, 2, 3 ir 4 įrašyk kaimyninių šalių pavadinimus:



14. Kiekviena valstybė turi savo skiriamuosius ženklus. Nurodyk, kurie iš čia išvardytųjų yra valstybingumo simboliai.
- A Emblema, himnas, vėliava.
 B Giesmė, herbas, vėliava.
 C Herbas, himnas, vėliava.
 D Vėliava, giesmė, emblema.
15. Ketvirtokai, ruošdamiesi viktorinai, svarstė, kaip vadinosi pirmoji lietuviška knyga. Padėk jiems, jei gali. Tau atrodo, kad ji vadinosi:
- A „Abėcėlė“;
 B „Vyturėlis“;
 C „Katekizmas“;
 D „Šaltinėlis“.
16. Lietuvių gentis į vieną valstybę suvienijo
- A Vytautas;
 B Mindaugas;
 C Algirdas;
 D Gediminas.
17. Be sutartinių ženklų nepavyktų nubrėžti jokio plano ar žemėlapiu. Ar žinai, ką reiškia šie dažniausiai naudojami sutartiniai ženklai? *Parašyk.*



18. Laikui bėgant, keitėsi žmonių apranga, drabužiai. Užpildyk trūkstamas grandis laiko juostoje. Nuvesk rodykles.



19. Nuvesk rodykles į trūkstamas grandis laiko juostoje:



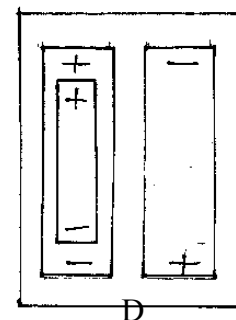
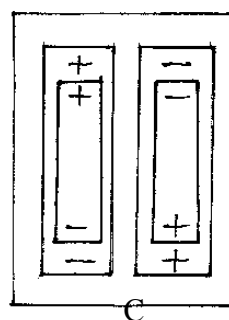
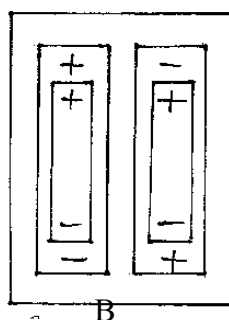
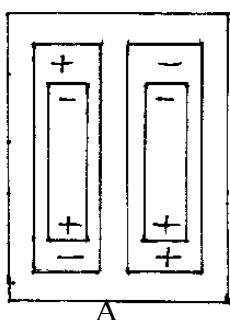
Akmens amžius		Senovės Graikija		Renesansas	
---------------	--	------------------	--	------------	--

Viduramžiai

Naujausieji laikai

Egiptas

20. Simui mama nupirko žaislinę mašinėlę su baterijomis. Kaip reikia sudėti baterijas, kad mašinėlė važiuotų? Pažymėk teisingą atsakymą.



21. Onutė ir Sigutė gavo vienodo dydžio ir vienodo karštumo dubenėlius sriubos. Onutė savąjį uždengė dangčiu.



Kurios mergaitės sriuba ilgiau neatauš? Kodėl?

22. Įsivaizduok: deganti žvakė įstatoma į dubenį su vandeniu ir uždengiama stiklainiu.

Kodėl po kurio laiko liepsna užgeso? Paaiškink.



23. Užbaik mintį:


Kūčių vakarienės neįsivaizduoju be _____

24. Žaisdamas su draugais, kartais netyčia susižeidi. Ką darysi, nusibrozdinęs kelį?

25. Jūs ruošiate projektą apie Žemės gyventojus. Kur ieškotum informacijos, jei Tau reikėtų sužinoti, kaip gyvena žmonės, pavyzdžiui, Afrikoje?

26. Žmonės visais laikais mėgo keliauti, lankytis svečiose šalyse. Ko Lietuvos žmonės vyksta į svetimus kraštus?

27. Kol prekė patenka į mūsų rankas, jai tenka nukeliauti ilgą kelią. Įrašyk trūkstamas grandis:



Gamintojas > > Sandėliavimas



Transportas > > Vartotojas

28. Nurodyk dvi priežastis, kam, tavo nuomone, reikalinga reklama:

29. Kada pasakytum „ne“?

- A Jei Tau pasiūlytų kartu nueiti į parduotuvę.
- B Jei Tau siūlytų slapta surūkyti cigaretę.
- C Jei Tau siūlytų paskanauti kinietišku patiekalų.
- D Jei tau pasiūlytų nueiti į kiną.

30. Šiandien vis mažiau žmonių suserga raupais, nes:

- A gydytojai atrado naujus vaistus, kuriais išgydomi ligoniai;
- B žmonės valgo geresnį maistą ir daugiau mankština, kad būtų sveikesni;
- C žmonės skiepijami nuo raupų;
- D pasaulyje sumažėjo žmonių.